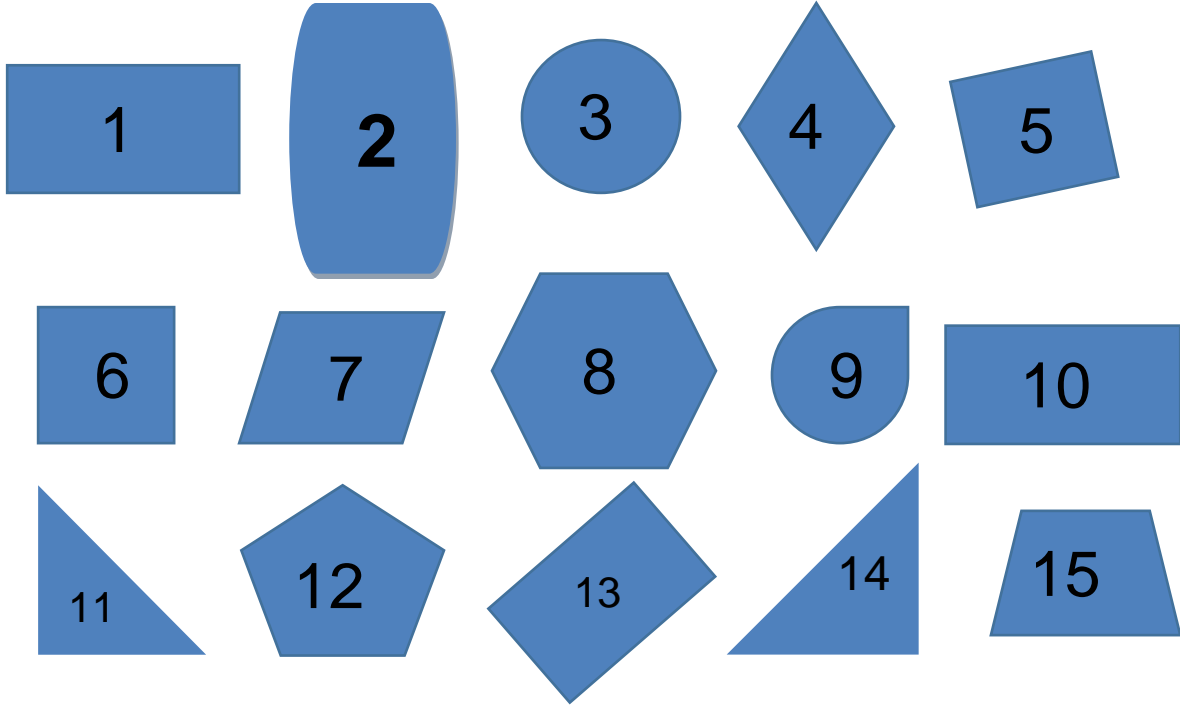


అసెస్మెంట్ 2

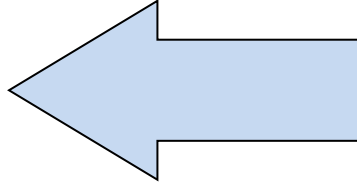
ప్ర. 1. ఇవ్వబడిన ఆకారాలను అవి ఇవ్వబడిన లక్షణాన్ని కలిగి ఉన్నాయో లేదో అనే దాని ఆధారంగా పట్టికలోని తగిన కాలమ్ లో ఉంచండి. ఒకవేళ మీరు కొన్ని ఆకారాల గురించి ఖచ్చితంగా చెప్పలేకపోతే, వాటిని 'ఖచ్చితంగా తెలియదు' కాలమ్ లో ఉంచండి. మొదటిది మీకొరకు చేయబడినది.



లక్షణము	లక్షణము కలిగి ఉంది	లక్షణము కలిగి లేదు	ఖచ్చితంగా తెలియదు
కనీసం ఒక వక్ర భుజం	2, 9	1, 4, 5, 6, 7, 8, 10, 11, 12, 13, 14, 15	3
అన్ని భుజాలు సమానం			
కనీసం ఒక లంబ కోణం			

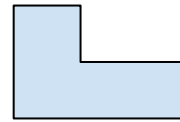
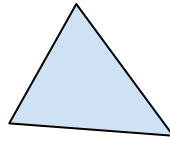
2 కంటే ఎక్కువ గురు కోణాలు			
వ్యతిరేక భుజాలు సమానం			
సరిగ్గా 2 జతల సమాంతర భుజాలు			

ప్ర. 2. క్రింది ఆకారం కలిగి ఉన్న 3 లక్షణాలను వ్రాయండి.



1. _____
2. _____
3. _____

ప్ర. 3. క్రిందివాటిలో రెండు ఆకారాలు కలిగి ఉన్న, మరియు రెండు ఆకారాలు కలిగి లేని లక్షణాలను ఎంచుకోండి.



- ఎ. సరిగ్గా 3 భుజాలు
- బి. కనీసం 1 లంబ కోణం
- సి. అన్ని కోణాలు సమానం
- డి. కనీసం ఒక జత సమాంతర రేఖలు